

Question Bank

collection of model question papers

STANDARD-3

 **Rainbow Publishers Pvt. Ltd.**

IX/14-15, Kakkanad-Pallikkara Road, Athani, Kusumagiri.P.O., Kakkanad, Kochi-682 030

Phone : 0484-2429261, 3291869, 8594040422

E-mail: rainbowpublishers@ymail.com

Website: rainbowpublishersindia.com

**FIRST TERMINAL EXAMINATION
STANDARD - 3**

Total marks
obtained
out of 50

ENGLISH

Part - A

Time : 2 hrs.
Marks : 50

(Write the answers in the question paper itself)

- 1. Change the given words into adjectives: 3**
a. wisdom b. strength c. length

- 2. Put quotation marks (“ ”) in the correct place: 2**
a. Akash said, I want the green balloons.
b. My mother said, Leela, you must not cry.

- 3. Circle the preposition in the following sentences: 3**
a. My cycle is under the tree.
b. The pencils are inside the box.
c. I left the sandals on the beach.

- 4. Make opposites using ‘un’: 2**
successful x do x
lock x tidy x

- 5. Fill in blanks with nationalities: 3**
a. I am from India. I am an
b. My teacher is from France. She is
c. I am going to Japan. My friend invited me.

- 6. Write the short form: 2**
a. Did not
b. Are not

- 7. Tick the correct option: 2**
a. We went their there to see the match.
b. They raced raised the water level in the tank.

The Strange Star

Rosie loved watching the night sky. It shined with so many stars. Sometimes, she would climb onto Papa's shoulders. She'd feel like a princess, sitting closer to those stars. One afternoon, Papa said, "We're going to the beach! Won't that be fun?" Rosie wasn't sure. "Will my stars be there, too?" "Maybe," Papa said. So they went to the beach. But it was foggy that night – no stars in sight. "Let's see what happens tomorrow," Papa said. "Okay..." Rosie frowned. The next morning, they went back to the beach and Rosie gathered seashells. Rosie found something strange. It looked like a big, orange, bumpy star. Had it fallen from the sky? And why wasn't it glowing? "It's not a star." Papa smiled. "It's a starfish. It lives in the ocean." Rosie put the starfish in the ocean. They watched the waves wash it back home. Then Rosie looked for more starfish. She liked stars and starfish.

a. When does Rosie find a starfish?

At the beach At night

In her backyard In the morning

b. What did Rosie do right after she found a starfish?

She gathered shells. She climbed on papa's shoulders.

She went to the beach. She put the starfish in the ocean.

c. What did Rosie do right before she found a starfish?

She looked up in the night sky. She collected seashells.

She looked for more starfish. She watched the waves take
the starfish away.

d. About how old do you think Rosie is? How can you tell?

.....

e. Think up another name for this story.

.....

9. Circle the nouns:

3

play sing computer bat happy girl

10. Underline the silent letter in each word: 2

k n i f e k n e e c a l m b o m b

11. Write the opposites: 3

gain climb late

12. Match the words with their meanings: 4

explode	shocked
incredible	understanding
notion	burst with loud noise
stunned	difficult to believe

13. Join the sentences with 'because': 3

- a. We won the match. We played well.
.....
- b. We slept early. We were tired.
.....
- c. We did not buy the dress. It was costly.
.....

PART - B

(Use separate answer sheets to write the answers)

14. Write a paragraph on the festival of 'Onam'. You can use the ideas given: 5

Harvest Festival - ten days - flower carpet - King Mahabali - new clothes - shopping - sadya - sweets - games - swing

15. Answer the following questions: 8

- a. How is Dussehra celebrated in North India?
- b. Why did Robert Bruce destroy the web?
- c. What did the boy find on the buttercups?
- d. Why is Dussehra celebrated?

FIRST TERMINAL EXAMINATION STANDARD-3

Total marks
obtained
out of 50

Time : 2 hrs.
Marks : 50

മലയാളം

(ഉത്തരം ചോദ്യക്കടലാസിൽ തന്നെ എഴുതുക.)

- 1. സമാനപദം എഴുതുക: 4½**

തൊടി = തളയ്ക്കുക =

മലർ = അത്താഴം =

പ്രവഹിക്കുക = അഴക് =
- 2. ഒറ്റയാൻ ആര്? 3**

a. ഓഷ്ഠം വണ്ട് ശ്രമരം അളി

b. ആന കരി ദന്തി പികം
- 3. ഒറ്റപ്പദങ്ങളും വികസിതരൂപവും എഴുതുക: 4**

ബാക്കിയുണ്ടായിരുന്നതും =

പോലെ + ഉണ്ട് =

ചുടേറ്റ് =

നിവർത്തി + ഇട്ട് =
- 4. ഒറ്റവാക്കിൽ ഉത്തരം എഴുതുക: 6**

a. 'വണ്ടിനോട്' എന്ന കവിത എഴുതിയതാര്? -

b. വിവരമറിഞ്ഞ് ആരാണ് ഉത്സവപ്പറമ്പിലെത്തിയത്? -

c. തേന്മാവിലിരുന്ന് കുക്കുന്നതാര്? -

d. കുഞ്ഞുണ്ണി എവിടെനിന്നാണ് മടങ്ങിവന്നത്? -

e. മഴവില്ലിൽ എത്ര നിറങ്ങളുണ്ട്? -

f. പൂവിലെ പലഹാരം എന്താണ്? -
- 5. എതിർപദം എഴുതുക: 1½**

ആദ്യം X വിൽക്കുക X

PART - B

(ഉത്തരങ്ങൾ വേറെ പേപ്പറിൽ എഴുതേണ്ടതാണ്)

6. അനുയോജ്യമായ പദങ്ങൾ ചേർത്ത് വാക്യങ്ങൾ എഴുതുക: 4

<p>അധ്യാപകരുടെ</p> <p>വിദ്യാലയങ്ങളിൽ</p> <p>ഡോക്ടറുടെ</p> <p>മാതാപിതാക്കളുടെ</p>	<p>നിർദ്ദേശങ്ങൾ</p>	<p>നൽകുന്നത് പ്രധാന അധ്യാപികയും, അധ്യാപകരുമാണ്.</p> <p>ചില കുട്ടികൾ പാലിക്കാറില്ല.</p> <p>വിദ്യാർത്ഥികൾ അനുസരിക്കണം.</p> <p>അനുസരിച്ചാണ് മരുന്നു കഴിക്കേണ്ടത്.</p>
--	---------------------	--

7. കഥ വായിച്ച് താഴെ കൊടുത്തിരിക്കുന്ന ചോദ്യങ്ങൾക്ക് ഉത്തരം എഴുതുക:

ഒരിക്കൽ ഒരു കർഷകന്റെ മകൻ കാട്ടിലൂടെ നടന്നുപോകുമ്പോൾ ഒരു പാമ്പിന്റെ വാലിൽ അറിയാതെ ചവിട്ടി. പാമ്പാവട്ടെ തിരിഞ്ഞ് ഒറ്റക്കടി. അയാൾ മരിച്ചുവീണു. ഇതറിഞ്ഞ കർഷകൻ പാമ്പിനെ തല്ലിക്കൊല്ലാൻ ശ്രമിച്ചു. വാൽ നഷ്ടപ്പെട്ട പാമ്പ് രക്ഷപ്പെട്ടു. അതിനുശേഷം പാമ്പ് പല രീതിയിലും കർഷകനോട് പകവീട്ടാൻ തുടങ്ങി. കർഷകന്റെ ആടിനെയും കോഴിയേയും കടിച്ച് കൊന്നു. പാമ്പിനെ പിണക്കിയത് ആപത്താണെന്ന് മനസിലാക്കിയ കർഷകൻ പാമ്പിനോട് പറഞ്ഞു: “സുഹൃത്തേ, നമുക്ക് പഴയതെല്ലാം മറക്കാം. ഇന്നുമുതൽ നമ്മൾ ചങ്ങാതിമാരാണ്.” ഇതുപറഞ്ഞ് കർഷകൻ പാമ്പിന് തേനും പാലും കൊടുത്തു. അപ്പോൾ പാമ്പ് പറഞ്ഞു: “നിങ്ങൾക്ക് ഒരിക്കലും നിങ്ങളുടെ മകന്റെ മരണം മറക്കാനാവില്ല. അതുപോലെ എനിക്കെന്റെ വാലും.” നിങ്ങളുടെ തേനും പാലും മടക്കി എടുത്തോളൂ.

- a. കഥയ്ക്ക് യോജിച്ച പേര് എഴുതുക. 1½
- b. കർഷകൻ പാമ്പിനോട് എന്താണ് പറഞ്ഞത്? 1½
- c. പാമ്പിന് കർഷകനോട് പക തോന്നാനുണ്ടായ കാരണമെന്ത്? 1½
- d. ഈ കഥയിലെ ഗുണപാഠം എന്ത്? 2

8. ഡ, ഒ, ഞ എന്നീ അക്ഷരങ്ങൾ വരുന്ന രണ്ടുപദങ്ങൾ വീതം എഴുതി അവ ഉപയോഗിച്ച് ഓരോ വാക്യം എഴുതുക. 4½

9. ‘വണ്ടിനോട്’ എന്ന കവിതയിൽനിന്നും 6 വരികൾ ക്രമമായി എഴുതുക. 4½

10. കലോത്സവത്തെക്കുറിച്ച് ഒരു വാർത്ത തയ്യാറാക്കുക. 3
 (തലക്കെട്ട്, സംഭവം നടന്ന സ്ഥലം, സംഭവത്തിന്റെ പ്രധാനഭാഗം എന്നിവ വാർത്തയിൽ ഉണ്ടായിരിക്കണം.)

11. രണ്ട് പൂക്കളുടെ പേരെഴുതി, അവ ഓരോന്നിനെക്കുറിച്ച് നാല് വാക്യത്തിൽ കുറയാതെ എഴുതുക. 4

12. കൂടയെക്കുറിച്ച് ഒരു പരസ്യം എഴുതുക. 2½

13. കാടുകൾ മണ്ണിനടിയിലാകാൻ കാരണമെന്ത്? 2

**FIRST TERMINAL EXAMINATION
STANDARD - 3**

Total marks
obtained
out of 50

MATHS

Part - A

Time : 2 hrs.
Marks : 50

(Write the answers in the question paper itself)

1. Write in numerals: 2

- a. Four hundred and two -
- b. Six hundred and ten -
- c. Six hundred and thirty four -
- d. Nine hundred and forty five -

2. Write in words: 2

- a. 888 -
- b. 605 -

3. Fill in the blanks: 4

- a. 6, 12,,, 30,,
- b. 6, 9,, 15,,,

4. Match the following: 2

- | | |
|--|--|
| a. 25 x 2 | 126 |
| b. 18 x 7 | 330 |
| c. 66 x 5 | 1048 |
| d. 131 x 8 | 50 |

5. Count in hundreds: 2

1600, 1700,,,,

6. Count in thousands: 2

5000,,,,

7. Fill in the numbers between: 4

2015,,,,,,
.....,,, 2024

8. Fill in the blanks: 3

a. $400 + 40 + 8 = \dots\dots\dots$

b. $700 + \dots\dots\dots + 3 = 713$

c. $\dots\dots\dots + 20 + 7 = 627$

9. With the given numerals write the biggest and smallest number: 2

4, 5, 1, 8

biggest number = smallest number =

10. Write 'T' for true or 'F' for false: 3

a. $1\underline{5}32$ - The place value of 5 is thousands.

b. $13\underline{5}2$ - The place value of 5 is tens.

c. $\underline{5}321$ - The place value of 5 is hundreds.

11. Write the largest and smallest number from each line: 3

					Largest number	Smallest number
520	602	167	400	233		
100	78	405	39	299		
3421	4231	1234	5435	2000		

12. Put greater than, lesser than, equal to signs: 3

a. $600 \dots\dots\dots 601$ d. $415 \dots\dots\dots 415$

b. $572 \dots\dots\dots 564$ e. $401 \dots\dots\dots 410$

c. $69 \dots\dots\dots 96$ f. $390 \dots\dots\dots 299$

13. Add:

3

$$\begin{array}{r} \text{Rs. P} \\ 78 \ 90 \\ + 25 \ 50 \\ \hline \end{array}$$

$$\begin{array}{r} \text{Rs. P} \\ 66 \ 60 \\ + 33 \ 40 \\ \hline \end{array}$$

14. Do the following and shade the box accordingly:

6

$$\begin{array}{r} 222 \\ + 149 \\ \hline \end{array}$$

$$\begin{array}{r} 412 \\ - 362 \\ \hline \end{array}$$

$$\begin{array}{r} 796 \\ - 284 \\ \hline \end{array}$$

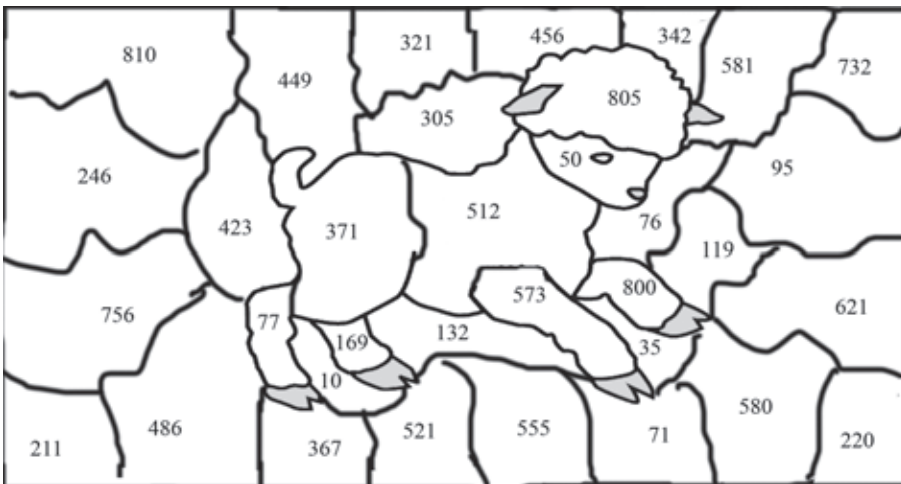
$$\begin{array}{r} 703 \\ + 102 \\ \hline \end{array}$$

$$\begin{array}{r} 424 \\ + 149 \\ \hline \end{array}$$

$$\begin{array}{r} 363 \\ - 194 \\ \hline \end{array}$$

$$\begin{array}{r} 591 \\ - 514 \\ \hline \end{array}$$

$$\begin{array}{r} 516 \\ + 284 \\ \hline \end{array}$$



PART - B

(Use separate answer sheets to write the answers)

15. Do the following problems:

- The fees for the school and the transport is Rs. 6550/- If the transport fee is 1750/-, how much is the school fees? **3**
- What is the difference between 4505 and 1248. Add that to 2162. What is the answer? **3**
- A merchant took Rs. 7800 to the market to buy some goods. At the end of the day, he had only Rs.1582. How much money did he spend to buy his goods? **3**

**FIRST TERMINAL EXAMINATION
STANDARD - 3**

Total marks
obtained
out of 50

SCIENCE

Part - A

Time : 2 hrs.
Marks : 50

(Write the answers in the question paper itself)

1. Name the following: 6

- a. nests high on trees.
- b. cuts holes on tree trunks with its beak.
- c. has sticky tongue to catch insects.
- d. A bird that eats dead and decaying things
- e. An omnivorous animal
- f. A water bird

2. Fill in the blanks: 5

- a. The sharp claws of flesh eating birds are called
- b. Part of the plant above the ground is called
- c. Animals that eat flesh are animals.
- d. The bones of a bird are light and
- e. Instead of teeth, butterflies have long coiled to suck nectar.

3. Tick the correct option: 2

- a. The chest wing muscles help move wings up and down.
- b. Plants and animals cannot live without oxygen carbondioxide .
- c. The claws webbed feet of ducks help them to swim.
- d. Snakes have small curved teeth to stop prey from escaping.

4. Match the following: 2

chlorophyll
sparrows
vultures
hens

fly high
green colour
fly short distance
fly low

5. Give a reason:

3

a. Ducks have broad flat beak with holes.

.....

b. Sparrows have sharp pointed beaks.


.....

c. Cats have strong grinding teeth.

.....

6. What part of this elephant is missing? Draw and name the part:

2



7. Say whether true or false. If false correct the statements:

4

a. Seeds fix the plant to the soil.

.....

b. Herbivorous animals eat both plants and animals.

.....

c. The ostrich flies long distances in search of food.

.....

d. Baby birds are called fledglings.

.....

8. Name these birds and also mention their favourite food: 4



.....
.....



.....
.....



.....
.....



.....
.....

9. Give two functions of: 6

- a. Green leaves :
- b. Seeds :
- c. Roots :

10. Draw roots, leaves, flower, fruit and label them: 3



PART - B

(Use separate answer sheets to write the answers)

11. Answer the following: 10

- a. Why are scavengers important?
- b. Why do we need plants?
- c. Name any two types of feathers and its functions.
- d. What type of mouth parts do frogs have?

12. Draw a food chain with three living things: 3

**FIRST TERMINAL EXAMINATION
STANDARD - 3**

Total marks
obtained
out of 50

SOCIAL STUDIES

Part - A

(Write the answers in the question paper itself)

Time : 2 hrs.
Marks : 50

- 1. On the map of India, mark:** **5**
Arabian Sea, Indian Ocean, Deccan Plateau, Lakshadweep, Western Ghats.



- 2. Fill in the blanks:** **6**
- a. is the highest peak in the world.
 - b. The Northern Plains are also called
 - c. is the large drawings of the earth in parts.
 - d. A plateau is also called
 - e. India is a country but Asia is a
 - f. The Taj Mahal is in the banks of river

3. Match the following:

2

- atmosphere
- Australia
- Godavari
- moon

- heavenly body
- river
- air
- continent

4. Name the following:

6

- a. Two rivers that flow through the Northern Plains.
.....,
- b. The ghats on two sides of the Deccan Plateau.
.....,
- c. Two groups of islands to the west and east of India.
.....,

5. State whether true or false:

5

- a. India is the largest country in the world.
- b. The rivers of Northern Indian plains never run dry.
- c. The Thar desert is in the south-west part of the country.
- d. The colour blue is used to show water bodies in an atlas.
- e. The earth revolves around the moon.

6. Select the source of the following rivers - Himalayas or Deccan Plateau: 3

- a. Krishna -
- b. Brahmaputra -
- c. Indus -
- d. Kaveri -
- e. Sutlej -
- f. Mahanadi -

7. Circle the odd word:

3

- a. Bay of Bengal Gangetic Plain Arabian Sea Indian Ocean
- b. Arctic Atlantic Asia Indian
- c. Moon Jupiter Uranus Saturn

8. Fill the puzzle:

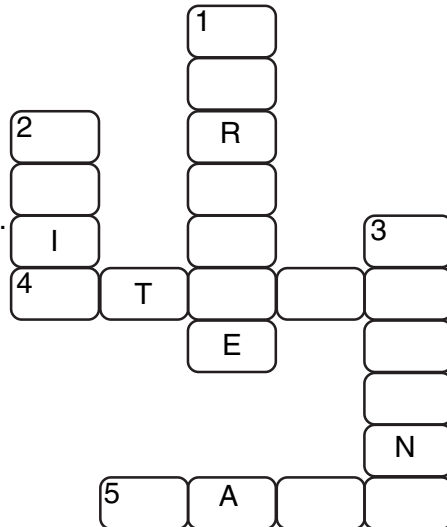
5

Across:

- 4. A book of maps.
- 5. Thar Desert is covered by this.

Down:

- 1. The soil in Northern Plains is very ...
- 2. The largest continent.
- 3. Land surrounded by water.



PART - B

(Use separate answer sheets to write the answers)

9. Give a reason why:

5

- a. Plants do not grow in the Thar Desert.
- b. You can go to Andaman and Nicobar only by ship or plane.
- c. The globe is shaped like a ball.
- d. Living creatures are found on earth.
- e. Some portions of the map are coloured blue.

10. Answer the following questions:

10

- a. Why is the Thar desert thinly populated?
- b. What is a peninsula?
- c. What is a solar system?
- d. Why are Himalayan rivers always filled with water?
- e. Why are Northern Plains thickly populated?

SECOND TERMINAL EXAMINATION STANDARD - 3

Total marks
obtained
out of 50

ENGLISH

Part - A

Time : 2 hrs.
Marks : 50

(Write the answers in the question paper itself)

- 1. Add 'er' / 'or':** **3**
- a. Help..... d. Tail.....
b. Doct..... e. Paint.....
c. Carpent..... f. Garden.....
- 2. Use 'always' or 'never' to fill in the blanks:** **3**
- a. You must.....wear clean clothes.
b. You must.....use bad words.
c. You must.....do your daily lessons.
- 3. Choose the correct word and fill in the blanks:** **4**
- amazement tired delicious quarrel
- a. You must not.....with your friends.
b. The children wereafter the long walk.
c. To everyone's he came first in the race.
d. My mother makes the mostcakes.
- 4. Match the word with its meaning:** **2**
- a. drizzle take tiny bites
b. nibble looks
c. gazes gaiety and fun
d. merriment light rain
- 5. Put the words in brackets in adverb form:** **4**
- a. Rani sang.....(beautiful)
b. The hungry dog looked at the bone.(sad)
c. The little children ran away(happy)
d. She put the plates back.....(careful)

6. Join the following pairs of sentences with 'so': **3**

- a. I bought two tickets. I could take my sister for the circus.

- b. He did not have an umbrella. He got wet in the rain.

- c. I missed the bus. I came walking.

7. Tick the correct word: **4**

- a. The (blew / blue) flag flew high.
- b. The (plain / plane) is flying in the sky.
- c. Let us have a (brake / break).
- d. The little pup ate the (piece / peace) of bread.

8. Fill in with words beginning with 'pl': **3**

- a. You can keep the.....on the table.
- b. When you want something, say 'pl.....' .
- c. Do not pl.....the flowers from the garden .

9. Use suitable prepositions: **4**

along over under towards

a. The bird flew the trees.



b. The boy ran the gate.



c. The river flows the bridge.



d. It is dangerous to walk a railway track.



10. Read the poem and answer the questions:

RABBIT HABIT

I have a rabbit habit.
I like to crunch and chew
On celery logs and carrot sticks,
And apple wedges, too.
I have a rabbit habit.
I like to chomp and munch
On crispy greens and juicy grapes.
Mmm...rabbit food for lunch!



- a. What is a rabbit habit? 1
.....
- b. List four action verbs in this poem. 2
.....
- c. From the poem find a rhyming word for : 2
chew munch

Part - B

(Use separate answer sheets to write the answers)

11. Write a paragraph on 'My City' / 'My Village': 5
12. Answer these questions: 10
- a. Who spoke these words? To whom?
- i. "I would bear anything now, if I could grow up to be Lord Mayor of London."
ii. "I can't take you. There are two big dogs there and they'll gobble you up."
- b. What is the moral of the story "Three Little Pigs"?
- c. Why did the pup follow the people who came to the market?
- d. How was London different from what Dick believed?
- e. How did the captain help the king of the island?

SECOND TERMINAL EXAMINATION STANDARD-3

Total marks
obtained
out of 50

Time : 2 hrs.
Marks : 50

മലയാളം

(ഉത്തരം ചോദ്യക്കടലാസിൽ തന്നെ എഴുതുക.)

- 1. സമാനപദം എഴുതുക: 3**

കയ്യേറുക = തുളുമ്പുക =

തൊഴുക = തേടുക =
- 2. ഒറ്റയാൻ ഏത്: 3**

a. നദി അടവി സരിത്ത് പുഴ

b. പാർ ഉൗർ ഗ്രാമം ദേശം
- 3. ഒറ്റപ്പദം എഴുതുക: 2**

കാട്ടിൽ താമസിക്കുന്നയാൾ =

അഗ്രം കുർത്ത നീണ്ട ആയുധം =
- 4. അനുയോജ്യമായവ വരച്ച് യോജിപ്പിക്കുക: 3**

ക്രിസ്മസ്	കാക്ക
മുൾകമ്പികൾ	കള്ളവും ചതിയുമില്ലാത്ത ഭരണകാലം
തുപ്പുകാരൻ	നക്ഷത്രവിളക്കുകൾ
മാവേലി	വേലികെട്ടാൻ
- 5. ഒറ്റവാക്കിൽ ഉത്തരം എഴുതുക: 8**

 - a. അഖിലയെ സോപ്പുണ്ടാക്കാൻ പഠിപ്പിച്ചതാര്?
 - b. നഗരവാസികൾ സ്വന്തമാക്കാൻ ശ്രമിച്ചതെന്ത്?
 - c. ദാമുവിന്റെ കയ്യിൽ നിന്ന് കാക്ക തട്ടിയെടുത്തതെന്ത്?
 - d. കൃഷിക്കാരൻ പ്രതിഫലമായി ചോദിച്ചതെന്ത്?
 - e. പഞ്ചസാര ഉണ്ടാക്കാൻ ഉപയോഗിക്കുന്ന സസ്യം?
 - f. ഗ്രാമത്തെ സമൃദ്ധമാക്കുന്നതാര്?
 - g. ഏത് രൂപത്തിലാണ് അരാക്നെ രാജകുമാരി പുനർജനിച്ചത്?
 - h. 'സംഹരിക്കുക' എതിർരൂപം?

PART - B

(ഉത്തരങ്ങൾ വേറെ പേപ്പറിൽ എഴുതേണ്ടതാണ്)

6. കഥയിലെ വിട്ടുപോയ ഭാഗം പൂരിപ്പിച്ച് ചോദ്യങ്ങൾക്ക് ഉത്തരം എഴുതുക: 2

(കൈനിയെ, ഹാജരാക്കി, ആഴ്ത്താപിച്ചു, കൈ, കാൽ, അപേക്ഷിച്ചു)

അതിരാവിലെ ഉറക്കമുണർന്ന് രാജാവ് കിളിവാതിലിൽകൂടി പുറത്തേക്ക് നോക്കിയപ്പോൾ ഒരു കുട്ടി തലയിൽ പഴക്കുടയുമായി നടന്നു പോകുന്നത് കണ്ടു. രാജാവ് തിരിഞ്ഞു പതുക്കെ ഉദ്യാനത്തിൽ നടക്കുവാനായി പടികളിറങ്ങി. അപ്പോൾ കോണിപ്പടിയിൽ തട്ടി അദ്ദേഹത്തിന്റെ കാൽ മുറിഞ്ഞു. ബാലനെ കണി കണ്ടതിനാലാണ് തന്റെമുറിഞ്ഞതെന്ന് ചിന്തിച്ച് രാജാവ് ഭടന്മാരെ വിളിച്ച് ആ ബാലനെ പിടിച്ചുകൊണ്ടു വരാൻ ഭടന്മാർ ആ ബാലനെ രാജാവിന്റെ മുന്നിൽ രാജാവ് അവനോട് പറഞ്ഞു 'നീ ലക്ഷണം കെട്ടുവനാണ്' നിനക്ക് ഞാൻ വധശിക്ഷ നൽകുന്നു. ഇതു കേട്ട്ബാലൻ പറഞ്ഞു 'രാജാവേ, ഞാൻ കണി കണ്ടത് അങ്ങയെ ആണ് അതിന്റെ ഫലമായി അടിയന് വധശിക്ഷ കിട്ടി'. ബാലന്റെ ബുദ്ധിപൂർവ്വമായ മറുപടിയിൽസന്തുഷ്ടനായ രാജാവ് അവനു സ്വർണ്ണനാണയങ്ങൾ നൽകി പറഞ്ഞയച്ചു.

- a. രാജാവ് ആരെയാണ് കണികണ്ടത്? 1
- b. ബാലൻ എന്താണ് രാജാവിനോട് പറഞ്ഞത്? 1
- c. രാജാവ് ബാലന് എന്ത് നൽകി പറഞ്ഞയച്ചു? 1
- d. ബാലന് എന്തു ശിക്ഷ നൽകാനാണ് രാജാവ് തീരുമാനിച്ചത്? 1
- e. ഈ കഥയ്ക്ക് ഒരു പേര് കൊടുക്കുക. 1

7. ഉത്തരം എഴുതുക:

- a. അഖില രശ്മിക്ക് കത്തെഴുതാനുണ്ടായ കാരണമെന്ത്? 2½
- b. കാക്കയുടെ ലക്ഷണങ്ങൾ എഴുതുക. 2½
- c. കാവൽക്കാരിലൊരാൾ ശാഠ്യം പിടിച്ചത് എന്തിനായിരുന്നു? 2
- d. ഒരു 'വൃക്ഷ'ത്തെക്കുറിച്ച് നാല് വാക്യങ്ങളിൽ കുറയാതെ എഴുതുക. 3

8. പുഴയെക്കുറിച്ച് ചുരുക്കി എഴുതുക. 4

9. ശിശു ദിനത്തെക്കുറിച്ച് ഒരു ചുമർ പരസ്യം തയ്യാറാക്കുക. 3

10. സ്കൂൾ വാർഷികാഘോഷത്തിൽ പങ്കെടുക്കാൻ ക്ഷണിച്ചുകൊണ്ട് ചങ്ങാതിക്ക് ഒരു കത്തെഴുതുക. 3

11. 'കർഷകൻ' എന്ന കവിതയിൽനിന്ന് നാലുവരികൾ എഴുതുക: 4

SECOND TERMINAL EXAMINATION STANDARD - 3

Total marks
obtained
out of 50

MATHEMATICS

Part - A

Time : 2 hrs.
Marks : 50

(Write the answers in the question paper itself)

1. **Pick out the prime numbers and write in the box:** **3**

3	6	12	17	19	4
22	2	29	34	50	
39	50	43	21	9	
<input type="text"/>	<input type="text"/>	<input type="text"/>	<input type="text"/>	<input type="text"/>	<input type="text"/>

2. **Write in twenties:** **3**

5000	5020	<input type="text"/>	<input type="text"/>	<input type="text"/>	<input type="text"/>	<input type="text"/>	<input type="text"/>	5160
------	------	----------------------	----------------------	----------------------	----------------------	----------------------	----------------------	------

3. **Write any six composite numbers between 20 and 50:** **3**

.....

4. **Fill in the blanks:** **3**

- a. The number that remains after a division is called
- b. is the only prime number which is even.
- c. When you multiply a number with zero, you always get the answer

5. **Match the following:** **4**

a. $25 \times 0 =$

8

b. $64 \div 8 =$

748

c. $426 + 322 =$

259

d. $544 - 285 =$

0

6. Do the following division and fill up the blanks: 4

$75 \div 4$

In this division

- a. The dividend is
- b. The divisor is
- c. The quotient is
- d. The remainder is

7. Fill in the tables: 3

a. $9 \times 4 =$

b. $10 \times 10 =$

c. $7 \times 14 =$

d. $12 \times 12 =$

8. Divide the following numbers: 3

a. $54 \div 9 =$

b. $6 \div 6 =$

c. $0 \div 7 =$

9. Multiply the following and write the answer: 6

a. $68 \times 52 =$

b. $435 \times 19 =$

c. $511 \times 23 =$

10. Do the following using short division method and write the 'quotient': 2

a. $28 \div 7 =$

b. $36 \div 4 =$

11. Do the following using long division method and write the 'quotient' and remainder :

3

a. $50 \div 7 =$

b. $72 \div 9 =$

12. Do the following division and check your answer:

4

a. $54 \div 6 =$

b. $48 \div 9 =$

PART - B

(Use separate answer sheets to write the answers)

13. Mani wants to buy 5 notebooks. Each note book costs Rs. 28. How much money does Mani have to pay totally?

3

14. 9 students stood in a line. 63 chocolates were distributed among them.

How much did each student get?

3

15. There are 20 coconuts on each tree. If there are 230 trees, how many coconuts are there in all?

3

**SECOND TERMINAL EXAMINATION
STANDARD - 3**

Total marks
obtained
out of 50

SCIENCE

Part - A

Time : 2 hrs.
Marks : 50

(Write the answers in the question paper itself)

1. Give two examples for each of the following: 3

SOLID	LIQUID	GAS

2. Name the following: 4

- a. One gas that dissolves in water
- b. First set of teeth
- c. The dissolved gas in coca-cola
- d. This organ helps to filter waste

3. Match the following: 3

Ice

Permanent teeth

skin

ears

lime and water

breakfast

32

Morning meal

hearing

sense organ

solid

mixes

4. Write 'T' for true or 'F' for false:

5

- a. Air contains only one gas.
- b. Glucose gives us energy.
- c. A child has twenty milk teeth.
- d. Lungs pump blood to all parts of the body.
- e. Water dissolves mineral salts in the soil.

5. Fill in the blanks:

5

- a. Stomach helps tofood.
- b. The first set of teeth is called
- c. Anything that has weight and occupies space is called
- d. give good shape to our face.
- e. The tongue helps us to

6. Name the organs:

3



.....



.....



.....

7. Tick the correct option:

2

- a. Soil and water (do not mix/ do mix).
- b. (Carbon dioxide / Oxygen) dissolved in water helps fish to breathe.
- c. Children lose their milk teeth (before / after) the age of twelve.
- d. Skeleton gives (movement / shape) to the body.

- 8. What happens:** **5**
- a. When water is cooled
 - b. When rubber is mixed with water
 - c. When steam is cooled
 - d. When gold is heated (very hot)
 - e. When ice is heated

- 9. Tick what is good for looking after our teeth:** **3**
- a. We should brush our teeth twice a day.
 - b. We should eat plenty of sweets.
 - c. Drink plenty of milk and water.
 - d. We should not drink sweet drinks that are too cold.

Part - B

(Use separate answer sheets to write the answers)

- 10. Draw the following:** **2**
- food that is good for teeth food that is not good for teeth

- 11. Answer the following questions:**
- a. Write one activity to show water dissolves sugar. **3**
 - b. Write three properties of solids. **3**
 - c. Why should we eat food? Give two examples of energy giving foods **3**
 - d. Give three functions of the teeth. **3**
 - e. Why do we need muscles? **3**

SECOND TERMINAL EXAMINATION STANDARD - 3

Total marks
obtained
out of 50

SOCIAL STUDIES

Part - A

(Write the answers in the question paper itself)

Time : 2 hrs.
Marks : 50

1. Name the state where people wear these dresses:

4

a.



.....

b.



.....

c.



.....

d.



.....

2. Name the following:

5

- a. The names of all the Indian soldiers are written on it
- b. A dress worn by women throughout India
- c. The president's residence
- d. Observatory built by Raja Jai Singh
- e. The river on which Delhi stands

3. Find the word in the jumbled letters:

5

- a. People who live in coastal areas eat plenty of IHFS.
- b. The head of the corporation in cities is called RYOMA
- c. The people vote when there is an NOTIEELC.
- d. The Bahai Temple is built in shape of a OTLSU.
- e. ACJKITRUF is a seasonal fruit.

4. Write 'T' or 'F': **5**

- a. India is divided into several districts.
- b. The President is the head of his cabinet of ministers.
- c. Rice is the staple food in the Southern States.
- d. The turban is tied in the same style in different states.
- e. Panchayat members are elected by people above 18 years.

5. Which item do you find in the following places? **5**

- oranges apple sugarcane spices wheat

- a. Kerala -
- b. Kashmir -
- c. Punjab -
- d. Karnataka -
- e. Nagpur -

6. Match the following: **4**

- | | |
|------------|--------------|
| a. Delhi | Veshti |
| b. Mundu | Panchayat |
| c. Village | Corporation |
| d. City | Indraprastha |

7. Fill in the blanks: **5**

- a. The two houses of Parliament are the and the
- b. Kashmiri men and women wear long woollen kurta called the
- c. The members of Municipal Committees are called
- d. Children love to visit in Delhi which has a number of swings.

8. a. Colour (green) a state where wheat is grown and write the name. 4½
b. Colour (blue) a state where plenty of fish is eaten and write the name.
c. Colour (red) a state where sugarcane is grown and write the name.



Part - B

(Use separate answer sheets to write the answers)

9. Draw a seed from which oil is got and name it: 2½
10. Answer these questions: 10
- a. Why is Delhi called a cosmopolitan city?
 - b. Why do people in India wear different types of dresses?
 - c. What are the uses of cattle?
 - d. Why is local self government necessary?
 - e. What is the Redfort?

**ANNUAL EXAMINATION
STANDARD - 3**

Total marks
obtained
out of 50

ENGLISH

Part - A

Time : 2 hrs.
Marks : 50

(Write the answers in the question paper itself)







1. Use 'either..... or' or 'neither nor': **3**

- a. I have a car ,..... a scooter.
- b. The children can write with a pen a pencil.
- c. You can sit on the chair on the bench.

2. Use 'if' to join the sentences: **3**

- a. I will give you five marks. You answer the question correctly.
.....
- b. You win the race. You run fast.
.....
- c. You don't like the book. You can return it.
.....

3. Compare the pictures and write the sentences using adjectives: **3**

- a.   Car 1 is..... than car 2.
- b. Dog 1 is dog 2.  
- c.   The flower isthe stone.

4. Write the opposite of the given adjective: **3**

- a. The maths test was very(difficult).
- b. He is so that he cannot reach the top shelf. (tall)
- c. The train was very this morning. (early)

5. Write a pair of rhyming words for each: 4

- a. last –
- b. string –
- c. kite –
- d. moon –

6. Complete the sentences: 4

- a. The boys were playing while
- b. My father was driving while

7. Cut out the words that do not show movement: 3

sailed happy flying rose sitting skipping

8. Match the name of the monument and the place: 2

- a. Eiffel Tower India
- b. Statue of Liberty Egypt
- c. Taj Mahal France
- d. Pyramid America

9. Which bird is it? 3

- a. India's national bird.
- b. The fastest bird.
- c. Bird used to carry messages.

10. Use the words from the box and fill in the blanks: 4

several	entertain	secret	founded
---------	-----------	--------	---------

- a. King Akbar a large dynasty.
- b. The joker can the people.
- c. I did not tell the to anyone.
- d. There are books on the shelf.

ANNUAL EXAMINATION STANDARD-3

Total marks
obtained
out of 50

Time : 2 hrs.
Marks : 50

മലയാളം

(ഉത്തരം ചോദ്യക്കടലാസിൽ തന്നെ എഴുതുക.)

1. **സമാനപദം എഴുതുക:** **3**

അന്തസ്സ് =	ആർദ്രമായ് =
കേഴുക =	പാഴാക്കുക =
ഒളി =	പ്രശസ്തി =

2. **ഒറ്റപ്പദം എഴുതുക:** **3**

രക്ഷിതാവില്ലാത്തവൾ	=
മരണത്തെ ഇല്ലാതാക്കുന്നത്	=
ശ്രേഷ്ഠയായ സ്ത്രീ	=

3. **ഒറ്റയാനെ വളയത്തിലാക്കുക:** **3**

മാരി	മഴ	സാഗരം	വൃഷ്ടി
ചോര	ദരി	രുധിരം	രക്തം

4. **എതിർപദം എഴുതുക:** **4**

മലിനം X	സമ്പന്നം X
നഷ്ടം X	ആദരവ് X

5. **അനുയോജ്യമായവ തമ്മിൽ നമ്പരിട്ട് യോജിപ്പിക്കുക:** **5**

1. ജലം	റേഡിയം കണ്ടുപിടിച്ചു	<input style="width: 30px; height: 25px;" type="text"/>
2. മഴവെള്ളം	മധുരമാണ്	<input style="width: 30px; height: 25px;" type="text"/>
3. ക്ഷയരോഗം	പാഴാക്കരുത്	<input style="width: 30px; height: 25px;" type="text"/>
4. മേരി ക്യൂറി	പകരുന്ന രോഗമാണ്	<input style="width: 30px; height: 25px;" type="text"/>
5. തേനിന്	സംരക്ഷിക്കണം	<input style="width: 30px; height: 25px;" type="text"/>

6. **പഴയകാലത്തുപയോഗിച്ച വീട്ടുപകരണങ്ങളുടെ പേര് തന്നിരിക്കുന്നു. അവയുടെ സ്ഥാനത്ത് ഇപ്പോഴുപയോഗിക്കുന്ന ഉപകരണങ്ങളുടെ പേരെഴുതുക:** **4**

ആട്ടുകല്ല് -	വീരകടുപ്പ് -
വിശറി -	അലക്കുകല്ല് -

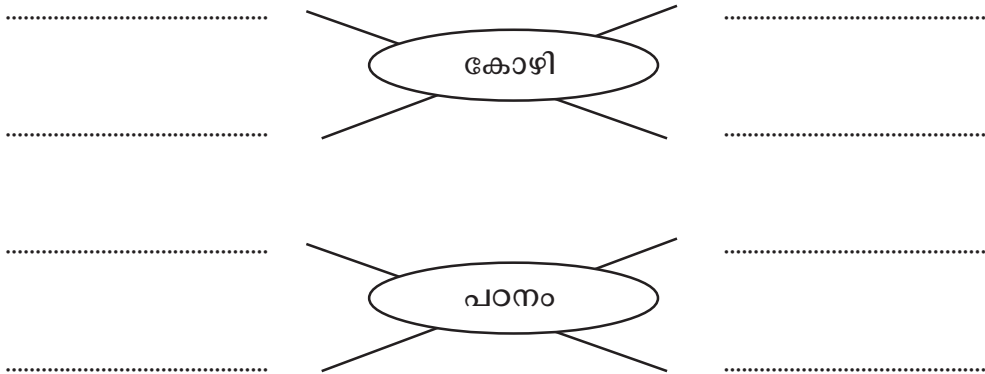
7 അനുയോജ്യമായ പദങ്ങൾ കണ്ടെത്തി കവിത പൂർണ്ണമാക്കുക:

3

ആന വരുന്നേ കുഞ്ഞയ്യപ്പോ
 മുറം പോലെ വച്ച്
 കിണ്ണം പോലെ വച്ച്
 പോലെ വയറും വച്ച്
 പോലെ കാലും വച്ച്
 കലക്ക തട്ടിത്തട്ടി
 വരുന്നേ കുഞ്ഞയ്യപ്പോ

8. പദസൂര്യൻ പൂർത്തിയാക്കുക:

2



PART - B

(ഉത്തരങ്ങൾ വേറെ പേപ്പറിൽ എഴുതേണ്ടതാണ്.)

9. ഉത്തരം എഴുതുക:

2½ x 5

- a. അമ്മയ്ക്ക് ഒരുമ്മ കൊടുക്കാൻ പോലും മേരിക്ക് കഴിഞ്ഞില്ല. എന്തു കൊണ്ട്?
- b. ജലം പാഴാക്കരുതെന്ന് പറയാൻ കാരണമെന്ത്?
- c. തൂവൽ എങ്ങനെയുള്ളതായിരുന്നു?
- d. തേനീച്ചക്കോളനിയിലെ താമസക്കാർ ആരെല്ലാം?
- e. അമ്മുവിന് ദുഃഖം തോന്നാൻ കാരണമെന്ത്?

- 10. പക്ഷിയെക്കുറിച്ച് ഒരു കവിത എഴുതുക.(ആറ് വരികളിൽ കുറയരുത്) 4½
- 11. 'ശ്രമമില്ലെങ്കിൽ ശ്രേയസ്സില്ല' എന്ന പഴഞ്ചൊല്ലിന്റെ അർത്ഥം വ്യക്തമാക്കുക. 2
- 12. 'ജലമില്ലെങ്കിൽ ജീവനില്ല'. ആശയം വിശദമാക്കുക. 4

ANNUAL EXAMINATION STANDARD - 3

Total marks
obtained
out of 50

MATHEMATICS

Part - A

Time : 2 hrs.
Marks : 50

(Write the answers in the question paper itself)

1. Fill in the blanks with numbers or Roman numerals: 4

- a. XX = 20
- b. XV =
- c. = 10
- d. VII =
- e. L =

2. How many days do the following months have? 1½

- a. February - b. April -
- c. December -

3. Fill in the blanks: 5

- a. 1 kilometre = metres.
- b. 1 kilogram = grams.
- c. 1 litre = millilitres.
- d. 1 metre = cm.
- e. 1 rupee = paise.

4. Draw the hands of the clock: 4½



9.00



1.35



10.05

5. Write the fraction that represents the shaded parts: 3







6. Shade or colour the given fraction:

6



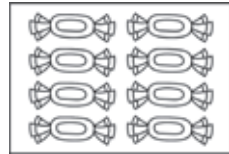
$$\frac{2}{5}$$



$$\frac{3}{4}$$



$$\frac{5}{8}$$



$$\frac{1}{2}$$

7. Match A to B:

5

A

9 Rs

15 kg

3 km

7 litres

5 m

B

3000 m

900 paise

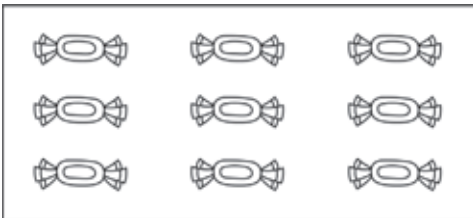
15000 g

500 cm

7000 ml

8. Draw lines to make the given collection to three equal parts. How many sweets are there in $\frac{1}{3}$ part of it?

3



Number of sweets in $\frac{1}{3}$ of collection =

9. Write the time below the clocks:

3







10. Tick the group of containers that make the total of 1 litre:

3





11. Convert:

3

a. 9 m 35 cm to centimetres	b. Rs. 8. 27 to paise
-----------------------------	-----------------------

12. Do the following:

4

a.

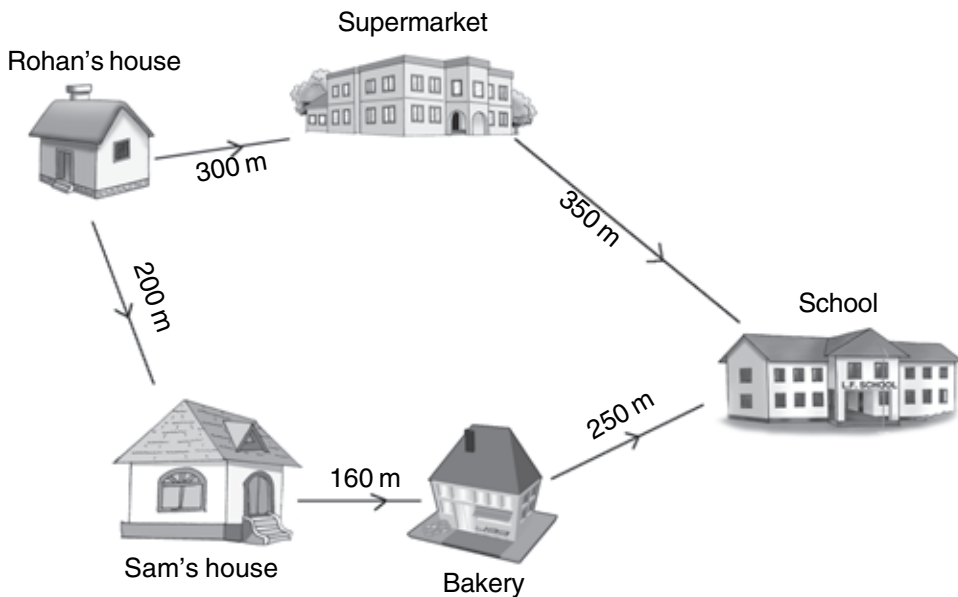
$$\begin{array}{r} \text{Rs.} \quad 64 \\ \times \quad 7 \\ \hline \\ \hline \end{array}$$

b.

$$\begin{array}{r} \text{Rs.} \quad 78.44 \\ - \text{Rs.} \quad 33.28 \\ \hline \\ \hline \end{array}$$

13. Find the distance:

5



- Distance from Rohan's house to school via supermarket =
- Distance from Sam's house to school =
- Distance between Rohan's house and Sam's house =
- Distance from Rohan's house to school via Sam's house =
- Which is the shortest distance for Rohan to school? = a d
(tick the right box)

ANNUAL EXAMINATION STANDARD - 3

Total marks
obtained
out of 50

SCIENCE

Part - A

Time : 2 hrs.
Marks : 50

(Write the answers in the question paper itself)

1. Tick the correct answer:

6

- a. Star patterns are called solar system constellations
- b. Earth is a planet star
- c. When the shadow of earth falls on the moon: lunar eclipse solar eclipse
- d. The rotation revolution of earth causes the seasons.
- e. Taj Mahal is made up of marble granite
- f. One who goes to space Astronaut Astronomer

2. Name the following:

6

- a. The path taken by earth around the sun.
- b. Softest mineral.
- c. This movement of earth causes day and night.
- d. Huge ditches on the surface of moon.
- e. When light is blocked by an object this is formed.
- f. A natural satellite of earth.

3. Find at least 8 names of rocks, soil and minerals hidden in this word search and write them:

8

a	c	h	a	l	k	n	m
s	a	n	d	o	p	q	d
g	r	a	n	i	t	e	i
r	c	o	a	l	s	t	a
a	m	a	r	b	l	e	m
v	u	z	y	x	a	b	o
e	t	a	l	c	t	c	n
l	c	l	a	y	e	d	d

.....

.....

.....

.....

.....

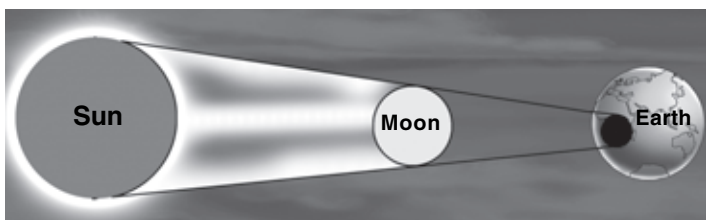
.....

.....

.....

4. What does this picture represent? How does it happen?

3



.....
.....
.....
.....
.....

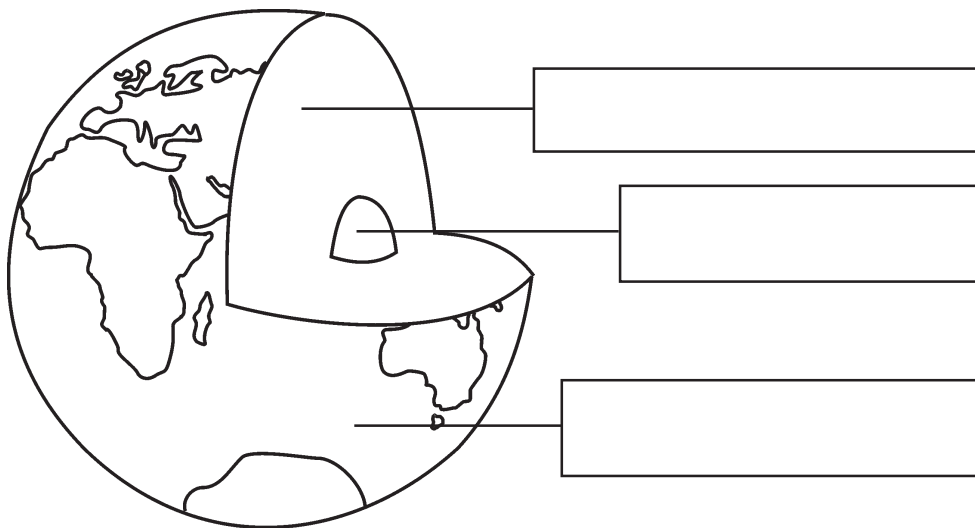
5. State true or false:

5

- a. There are mountains and valleys under the sea.
- b. Moon takes 28 days to rotate on its axis.
- c. We live on crust of the earth.
- d. Light rays can pass through rocks.
- e. Air is needed for burning.

6. Colour the diagram and label the parts shown:

4




Now fill up the blanks:

2

- a. The seas and mountains lie on
- b. One third of the earth is
- c. The shape of the earth is
- d. Core is made up of melted

7. Name and draw one thing that needs air to move:

2



8. Match:

6

black board	pollutes air
hardest rock	core
crescent	star
sun	slate
centre of earth	diamond
smoke	moon

Part - B

(Use separate answer sheets to write the answers)

9. Answer these questions:

8

- Name an artificial satellite of earth and state its uses.
- How do rocks become soil?
- Define solar system.
- What are the two uses of diamond?

ANNUAL EXAMINATION STANDARD - 3

Total marks
obtained
out of 50

SOCIAL STUDIES

Part - A

(Write the answers in the question paper itself)

Time : 2 hrs.
Marks : 50

1. Name the art form and the state to which it belongs:

4



.....



.....

.....

.....

2. Fill up the boxes:

6

City	Present Name	Language Spoken
Madras		
Bombay		
Trivandrum		

3. Match A to B to C:

8

A

B

C

Diamond Harbour

Mahabalipuram

Thiruvananthapuram

Rock cut Temples

East coast

Shah Jahan

Computer software

Technopark

Kolkata

Taj Mahal

Agra

Near Chennai

4. a. Say true or false. (b) If false write the correct statement:

6

- a. Thousands of years ago people lived like animals.
.....
- b. Early man lived in flats.
.....
- c. Raja Ravi Varma was a famous dancer.
.....
- d. Chennai city is divided into two parts.
.....
- e. Shantiniketan is in Mumbai.
.....
- f. Netaji Subash Chandra was a famous freedom fighter.
.....

5. Name in twos:

10

- a. Beaches near Thiruvananthapuram.
.....
- b. Languages spoken in Mumbai.
.....
- c. Hospitals in Chennai.
.....
- d. Food eaten by early man.
.....
- e. Dresses of early man was made from
.....

6. In the outline map of India, mark the following:

6

(Chennai, Mumbai, Kolkata, Tamil Nadu, Kerala, Kanyakumari)



Part - B

(Use separate answer sheets to write the answers)

10. Answer the following:

10

- a. What did early man do to keep fire burning?
- b. Why is Kerala called 'God's own country'?
- c. On which coast of India is Chennai situated?
- d. Which is Mumbai's main railway station? How old is it?
- e. What is the climate of Kolkata like?